

2026（令和8）年度
一般選抜（3教科B方式）試験問題

「国語」

訂正紙があります。最終ページをご確認ください。

問一 次の(1)～(5)の——部のカタカナを、それぞれ漢字に直しなさい。楷書で大きく書くこと。

記述式解答用紙に記入すること

- (1) ソウジよりも洗濯のほうが得意である。
- (2) 社長のゴウマンな態度にうんざりしている。
- (3) ギターは弾けるがガクフが読めない。
- (4) 芸術においてモホウから学ぶことは多い。
- (5) 応援団は全力でチームをコブしている。

問二 次の(6)～(10)の——部の漢字の読み方を、それぞれひらがなで書きなさい。

記述式解答用紙に記入すること

- (6) 商店街で色艶の良いみかんを売っていた。
- (7) 脳梗塞のリハビリは順調に進んでいる。
- (8) 失言により大臣が更迭された。
- (9) 覆面パトカーが高速道路を飛ばしていった。
- (10) 野球選手がケガで一軍の登録を抹消された。

次の会話文は、大学教員のおしゃべりです。これを読んで、問三～問六に答えなさい。

川津先生 もうすぐ卒業式ですね。

山田先生 そうですね、キャンパスの梅が咲き(1) そうです。

原岡先生 また四年生がキャップ&ガウンを着る季節ですね。

川津先生 職員さんは毎日準備に追われていますよ。

山田先生 ところで佐久間先生から新しい論文をいただきました。

原岡先生 年に一本は書いていらつしやいますよね。

山田先生 そうですね。余裕がない年は書かないようですけど。

川津先生 いやはや、継続(d)することは大事ですね。

問三 — 部A「いただき」・B「いらつしやい」について以下の問に答えなさい。

(一) A・Bの敬語の種類として適切なものを、それぞれ次の中から一つ選びなさい。A

1

B

2

① 尊敬語

② 謙讓語

③ 丁寧語

④ 美化語

(二) A・Bは誰に対する敬意を表すか、適切なものをそれぞれ次の中から一つ選びなさい。A

3

B

4

① 山田先生

② 佐久間先生

③ 原岡先生

④ 川津先生

- 問四 〓部の助動詞(1)「そう」・(2)「れ」・(3)「よう」の意味として適切なものを、それぞれ次の中から一つずつ選びなさい。ただし、同じ選択肢を二回以上選んではならない。(1) 5 (2) 6 (3) 7
- ① 希望 ② 推定 ③ 伝聞 ④ 様態 ⑤ 受身 ⑥ 断定

問五 〓部の動詞 a「咲き」・b「着る」・c「書か」・d「する」について以下の問に答えなさい。

- (一) a～dの動詞の活用の種類として適切なものを、それぞれ次の中から一つ選びなさい。ただし、同じ選択肢を二回以上選んでもよい。 a 8 b 9 c 10 d 11
- ① 五段活用 ② 上二段活用 ③ 下二段活用 ④ 力行変格活用 ⑤ サ行変格活用

- (二) a～dの動詞の活用形として適切なものを、それぞれ次の中から一つ選びなさい。ただし、同じ選択肢を二回以上選んでもよい。 a 12 b 13 c 14 d 15
- ① 未然形 ② 連用形 ③ 終止形 ④ 連体形 ⑤ 仮定形

問六 会話文に関連して、「継続することの重要性」を述べている故事成語として最も適切なものを、次の中から一つ選びなさい。 16

- ① 背水の陣 ② 愚公山を移す ③ 四面楚歌 ④ 虎の威を借る狐

問七 紀貫之の作品はどれか、次の中から一つ選びなさい。

① 『十六夜日記』

② 『讃岐典侍日記』

③ 『更級日記』

④ 『土佐日記』

17

問八 『おらが春』の作者は誰か、次の中から一つ選びなさい。

① 西山宗因

② 松尾芭蕉

③ 与謝蕪村

④ 小林一茶

18

問九 小説『齒車』の作者は誰か、次の中から一つ選びなさい。

① 志賀直哉

② 芥川龍之介

③ 川端康成

④ 井伏鱒二

19

問十 村上春樹の作品はどれか、次の中から一つ選びなさい。

① 『ノルウェイの森』

② 『博士の愛した数式』

③ 『ポッコちゃん』

④ 『舟を編む』


20

※著作物の使用部分については、著作権の関係により掲載できません。

二
次の文章は犬塚美輪『読めば分かるは当たり前?』の一節を一部改変したものである。これを読んで、後の問に答えなさい。

国語B

※著作物の使用部分については、著作権の関係により掲載できません。



※著作物の使用部分については、著作権の関係により掲載できません。

国語B

※著作物の使用部分については、著作権の関係により掲載できません。

国語B

※著作物の使用部分については、著作権の関係により掲載できません。

※著作物の使用部分については、著作権の関係により掲載できません。

注1 方略——ここでは、目標達成のための戦略。

注2 表象を構築する——ここでは、文章を読んでその内容を自分の知識とつなげて頭の中に再現し、理解すること。

問一 図のW・X・Y・Zにあてはまる言葉の組み合わせとして最も適切なものを次の中から一つ選びなさい。

- | | | | | |
|---|--------|---------------|--------|---------------|
| ① | W 状況把握 | X メタ認知的モニタリング | Y 方針決定 | Z メタ認知的コントロール |
| ② | W 状況把握 | X メタ認知的コントロール | Y 方針決定 | Z メタ認知的モニタリング |
| ③ | W 問題提起 | X メタ認知的モニタリング | Y 課題変更 | Z メタ認知的コントロール |
| ④ | W 問題提起 | X メタ認知的コントロール | Y 課題変更 | Z メタ認知的モニタリング |

21

問二 — 部(1)子どもの認知についてたぐさんの研究をしたマークマン」とあるが、本文中のマークマンの研究によってわかつたことは何か。次の中から正しいものを一つ選びなさい。

22

- ① 小学生の記憶力は大学生より劣っているが、あらかじめ心の準備をさせれば、適切に文章を理解できる。
- ② 小学生の認知力は、メタ認知的コントロールが適切に働かないという失敗を繰り返すことで改善される。
- ③ 小学生であっても、事前の準備次第でメタ認知的モニタリングを働かせて、文章の矛盾を見つげられる。
- ④ 小学生は理解力が乏しいため、矛盾を見つげるためには、事前に文章の内容を説明することが不可欠だ。

問三 空欄（A）に最もよくあてはまる言葉を次の中から一つ選びなさい。

23

- ① 表面的
- ② 短絡的
- ③ 人為的
- ④ 批判的

問四 Bの文章の説明として正しいものを次の中から一つ選びなさい。

24

- ① ガン細胞は自分の細胞だと認識されるのに、異物を取り除く免疫システムで対抗するという内容が矛盾している。
- ② 免疫システムがガン細胞に有効としながら、具体的なその仕組みについて提示しない記述方法が矛盾している。
- ③ 専門用語が使われておらず権威が示されてもいらないので、心の準備をしても矛盾に気づきにくい文章である。
- ④ B以外の権威ある健康情報などと比較することによって初めて、その記述に矛盾があることがわかる文章である。

問五 空欄(C)(D)にあてはまる言葉の組み合わせとして最も適切なものを次の中から一つ選びなさい。

25

- ① C 現実的 D 低い
- ② C 合理的 D 素直な
- ③ C 理想的 D 浅い
- ④ C 普遍的 D 安全な

問六 Eは、どのような例文として挙げられているか。正しいものを次の中から一つ選びなさい。

26

- ① 注意深く読みさえすれば、メタ認知的モニタリングによって違和感を克服できる例文。
- ② 読後の違和感が記憶のネットワークを混乱させるため、矛盾を見過ごしてしまう例文。
- ③ 誤った内容だが、文として意味は通っており、注意しないと違和感を持ちにくい例文。
- ④ 「ほほよい表象」の働きによって、簡略な内容であっても違和感に気がつきやすい例文。

問七 —部②「自分の知識との矛盾に気がつくメタ認知的モニタリングは困難になります」とあるが、筆者はこれを解決するた

めにはどうしたらよいと考えているか。次の()にあてはまる言葉を本文中から二〇文字以上二五文字以内で抜き出して、文章を完成させなさい。解答欄には、抜き出した言葉の最初と最後の五文字を記入しなさい。ただし、かつこなどの記号も字数に数える。

記述式解答用紙に記入すること

自分の知識との矛盾に気がつくためには、() ()が必要である。

問八 次の段落を入れるのに最もふさわしい箇所を

I

IV

の中から一つ選びなさい。

27

メタ認知はうまく働いてくれるときばかりではありません。人はときに「わかったつもり」になってしまつて、自分がうまく理解できていないことを見逃したり、「わからないな」と把握しても「まあいいか」と放置してしまうこともあります。

① I

② II

③ III

④ IV

問九 本文の内容に合致するものを次の中から一つ選びなさい。

28

- ① メタ認知によつて「わからない」と判断されると、人はまずメタ認知的モニタリングを働かせて対応方法を考える。
- ② 人は特に抽象的な文章を読む際に、適度にモニタリングを働かせて、表象をコントロールしようとする傾向がある。
- ③ メタ認知の脆弱性は、人が矛盾を意図的に排除して疑似科学やフェイクニュースを信じるという点からも明らかだ。
- ④ 人が文章を読む際、常に矛盾があるかもしれないと準備してメタ認知的モニタリングを働かせているわけではない。
- ⑤ どこかに間違いがある文章を読む時は、人や方略に関する知識を活用して「ほぼよい表象」を構築する必要がある。

国語B

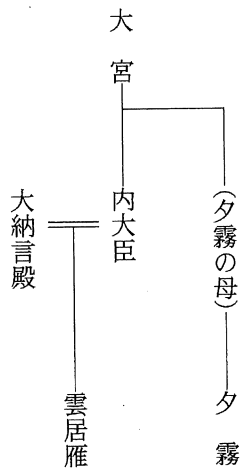
三 次の文章は、『源氏物語』「少女」の巻の一節を一部改変したものである。これを読んで、後の問に答えなさい。

いとこ同士の夕霧ゆづき(本文中では「男君」と雲居雁くもいのかり(本文中では「姫君」)は、祖母である大宮(本文中では「宮」「大宮」)の邸やしきで一緒に育てられ、幼いながらも相思相愛の仲であった。雲居雁の父である内大臣(本文中では「大臣」)はそうとは知らず、雲居雁を東宮(皇太子)のもとへ入内しゅだいさせようと考えた。けれども二人の仲を知ってしまった内大臣は、二人を放任していたと母である大宮を非難し、雲居雁に仕える女房たちを相手に嘆く。

※著作物の使用部分については、著作権の関係により掲載できません。

- 注1 かしこ——内大臣の本邸。大宮の邸とは別で、内大臣の正妻(雲居雁)にとっては継母やその子どもたちが住む。
- 2 大納言殿——雲居雁の実母。内大臣との離婚後、大納言と再婚している。そのため内大臣は、雲居雁が継父のもとで育つことを案じ、大宮のもとへと預けた。
- 3 ただ人——皇族に対して臣下のこと。夕霧はただ人。

【人物関係図】



問一 — 部A「いたづらになりたまふまじきわざ」・B「なかさしもあるべき」の現代語訳として最も適切なものを、それぞれ次の中から一つずつ選びなさい。

29

30

A いたづらになりたまふまじきわざ

- 29
- ① 失望いたさずにすむようなこと
 - ② 悪ふざけをなさることができないこと
 - ③ 役立たずな者になってしまいかねないこと
 - ④ 無用の身におなりにならないであろうこと

B なとかさしもあるべき

- 30
- ① どうしてそのように考えることがあろうか
 - ② 何とかしてそのように言わせないようにしたい
 - ③ そのようにばかり思い悩むのはやめてしまおう
 - ④ なぜそのようなことを願わないのだろうか

問二 — 部a、s、eの助動詞の意味として適切なものを、それぞれ次の中から一つずつ選びなさい。ただし、同じ選択肢を二回

以上選んではならない。

- | | | | | | | | | | |
|--------|------|------|------|--------|------|------|------|---|----|
| a | 31 | b | 32 | c | 33 | d | 34 | e | 35 |
| ① 現在推量 | ② 断定 | ③ 意志 | ④ 完了 | ⑤ 打消意志 | ⑥ 打消 | ⑦ 推量 | ⑧ 過去 | | |

問三

部に入る語の活用形として適切なものを、次の中から一つ選びなさい。

36

- ① たりめり
- ② たりめれ
- ③ たんめり
- ④ たんめれ

問四 〰〰部(1)「言ひ」・(2)「思ひ」・(3)「恨み」・(4)「思し」・(5)「もてなしそめ」の主語は、それぞれ誰か。次の中から一つずつ選

なさい。ただし、同じ選択肢を二回以上選んでもよい。(1) 37 (2) 38 (3) 39 (4) 40 (5) 41

- ① 雲居雁 ② 内大臣 ③ 大宮 ④ 女房たち ⑤ 大納言殿 ⑥ 内大臣と女房たち

問五

……部X「いとかかれとしも思はれざりけむ」とあるが、具体的にはどのような意味か。その説明として最も適切なものを、次の中から一つ選

42

- ① 大宮は、夕霧と雲居雁が恋仲になれとお思いになってよいはずない、ということ。
 ② 大宮は、夕霧と雲居雁が恋仲だと以前から予想していたに違いない、ということ。
 ③ 女房たちは、夕霧と雲居雁が恋仲になればよいとは思わなかっただろう、ということ。
 ④ 女房たちは、夕霧と雲居雁が恋仲であったとは思っても奇らなかったのか、ということ。

問六

……部Y「これより及びなからむ際きはにもとこそ思へ」とあるが、その解釈として最も適切なものを、次の中から一つ選

43

- ① 大宮は、夕霧が雲居雁よりも高貴な人と結婚してもおかしくないと思っている。
 ② 大宮は、雲居雁が夕霧よりも高貴な人との結婚を望んでも当然だと思っている。
 ③ 内大臣は、夕霧が雲居雁よりも高貴な人と結婚するのではないかと思っている。
 ④ 内大臣は、雲居雁には夕霧よりも高貴な人との結婚がふさわしいと思っている。

問七

……部Z「我が心ざしのまさればにや」とあるが、これと同じ意味の語を本文中から二〇字以内で抜き出

記述式解答用紙に記入すること

国語B

問八 本文の内容の説明として正しいものを、次の中から二つ選びなさい。

44 45

- ① 内大臣は女房たちに、雲居雁と夕霧の仲についてはいざ世間に知られるだろうが、しばらくは事実ではないとごまかしておくよう指示をした。
- ② 女房たちは、臣下には珍しいほど優れている夕霧は、結婚相手として東宮に次いで理想的な人物であり、大納言殿への顔も立つと考えている。
- ③ 雲居雁は、まだ幼い自分がいくら結婚相手についての希望を述べても周囲の人々に聞き入れられないため、落胆のあまり涙を流して悲しんだ。
- ④ 大宮は雲居雁の容姿の美しさを認めていたため、内大臣が東宮への入内という大それた望みを抱くのも一方では無理のないことであると思った。
- ⑤ 大宮は、内大臣はこれまで雲居雁を格別大事にはしておらず、自らが養育したからこそ東宮への入内も考えられようになつたのだと不満を抱いた。

訂正 国語

18ページ 三 問八 選択肢⑤

（誤）

⑤ 大宮は、内大臣はこれまで雲居雁を格別大事にはしておらず、自らが養育したからこそ東宮への入内も考えられようになったのだと不満を抱いた。



（正）

⑤ 大宮は、内大臣はこれまで雲居雁を格別大事にはしておらず、自らが養育したからこそ東宮への入内も考えられるようになったのだと不満を抱いた。

2026（令和8）年度


一般選抜（3教科B方式）試験問題

「英語」


英語B

I. 次の文章を読み、後の問に答えなさい。

※著作物の使用部分については、著作権の関係により掲載できません。



※著作物の使用部分については、著作権の関係により掲載できません。



(David Crystal. 2019. *A Little Book of Language* より抜粋、一部改変)

coo or babble 乳幼児の発する音声

英語B

問 1. 本文中の下線部(A)~(E)のそれぞれについて、本文中の意味に最も近いものを1つ選び、番号を所定欄にマークしなさい。

(A) undoubtedly

- ① accordingly
- ② definitely
- ③ normally
- ④ presumably

(B) have your say

- ① express your thoughts
- ② listen to the speaker carefully
- ③ pronounce the word clearly
- ④ remember what you said

(C) cross

- ① annoyed
- ② horrified
- ③ pleased
- ④ surprised

(D) interrupt

- ① cut in
- ② fill out
- ③ go away
- ④ take on

(E) predictable

- ① artificial
- ② difficult
- ③ expected
- ④ serious

問 2. 本文中の空所(1)~(3)の空所に入れるのに最も適切な語を一つ選び、番号を所定欄にマークしなさい。

- | | | | | |
|---------------|----------|-----------|-----------|--------------------------------|
| (1) ① against | ② beside | ③ between | ④ without | <input type="text" value="6"/> |
| (2) ① As | ② By | ③ For | ④ Like | <input type="text" value="7"/> |
| (3) ① any | ② either | ③ neither | ④ none | <input type="text" value="8"/> |

英語B

問 3. 本文中の(ア)~(ウ)の動詞の形として最も適切なものを1つ選び、番号を所定欄にマークしなさい。

(ア) say

- ① said
- ② say
- ③ saying
- ④ to say

(イ) feel

- ① feel
- ② feeling
- ③ felt
- ④ to feel

(ウ) draw

- ① draw
- ② drawing
- ③ drawn
- ④ drew

問 4. 最終段落の波線部で、botheredの後に省略された語句を補うとしたら、どれが適当か。最も良いものを一つ選び、番号を所定欄にマークしなさい。

- ① a brown dog
- ② her father
- ③ to teach him the word
- ④ to try to say the word

英語B

- 問 5. 本文の要旨をまとめた下の文章の空所(A)～(D)に入る適当な単語を、本文中から一語ずつ選んで書きなさい。ただし、本文中の語形は変えないこと。記述式解答用紙に記入すること


Conversation is a very common use of language. For a conversation to be successful, it is important for participants to take (A). Though this may seem quite (B), it actually isn't. People have to (C) the way to do it. We have to be able to listen, not only speak.

In conversation in early years of life, an (D) between an adult and a child is essential. An adult takes the child's one-word utterance and shows how to build it into a sentence.

英語B

II. 次の文章を読み、後の問に答えなさい。

※著作物の使用部分については、著作権の関係により掲載できません。



英語B

※著作物の使用部分については、著作権の関係により掲載できません。

(“Global warming leading to sleep loss, wider disparities.” *Kyodo News*, June 25,
2022 より抜粋、一部改変)

disparities 格差

cardiovascular 心臓血管の

問 1. 本文中の下線部(A)~(F)のそれぞれについて、本文中の意味に最も近いものを
一つ選び、番号を所定欄にマークしなさい。

(A) risks

- ① attempts
- ② dangers
- ③ frequency
- ④ safeguards

(B) recommended

- ① approved
- ② disputed
- ③ held
- ④ returned

(C) diminished

- ① damaged
- ② endangered
- ③ enlarged
- ④ reduced

(D) behavior

- ① conduct
- ② laziness
- ③ reactions
- ④ teamwork

(E) insufficient

- ① deficient
- ② enough
- ③ inactive
- ④ satisfactory

(F) considerably

- ① basically
- ② correctly
- ③ greatly
- ④ probably

英語B

問 2. 本文中の(ア)~(ウ)に示した語句を正しい順序に並べ替え、それぞれの2番目と4番目に来る語句の番号を所定欄にマークしなさい。

(ア) ① lead ② may ③ rising temperatures ④ to
_____ _____

(イ) ① associated ② been ③ has ④ with
_____ _____

(ウ) ① a ② less ③ quarter ④ than
_____ _____

問 3. 本文中の空所(1)~(3)に入れるのに最も適切な語を選び、番号を所定欄にマークしなさい。

(1) ① at ② in ③ of ④ to
(2) ① by ② of ③ so ④ up
(3) ① from ② if ③ off ④ out

英語B

問 4. 次の各文で、本文の内容と一致するものには①、一致しないものには②を所定欄にマークしなさい。

- (a) Climate change is increasing people's income. 28
- (b) Men tend to lose more sleep than women under higher nighttime temperatures. 29
- (c) Loss of sleep is one consequence of climate change. 30
- (d) People lost more sleep when nighttime temperatures exceeded 10 °C. 31
- (e) Hotter climate makes people sleep longer. 32

問 5. 本文中の二重下線部 People in lower-income countries were around three times more likely to experience sleep loss compared with people in higher-income countries を日本語に訳しなさい。 記述式解答用紙に記入すること

英語B

Ⅲ. 次のA、Bに答えなさい。

A. 各文の空所に入れるのに最も適切な語句をそれぞれの①～④の中から選んで番号を所定欄にマークしなさい。

(1) Lunch is () me today. You paid for me last time. 33
① for ② like ③ on ④ to

(2) People tend to be suspicious () the new movements of their era.
34
① along ② by ③ of ④ over

(3) Her name is on the () of my tongue. It starts with an "N." 35
① head ② right ③ side ④ tip

(4) He is by no () a beginner. 36
① course ② far ③ means ④ ways

(5) Children wear () their shoes very quickly. 37
① in ② off ③ out ④ up

(6) I saw her pushing her () through the crowd. 38
① along ② back ③ route ④ way

(7) The signal () green. 39
① began ② changed ③ shifted ④ turned

(8) I don't mind cooking, but I can't () doing the dishes. 40
① deal ② like ③ stand ④ try

- (9) At first () I thought the questions were quite easy. 41
 ① eye ② glance ③ idea ④ seem
- (10) Since he was injured in the game, he cannot walk, () alone run.
42
 ① get ② let ③ make ④ take
- (11) We were stuck in traffic for hours, so we got there () schedule.
43
 ① behind ② over ③ out of ④ under
- (12) He quit his job for a () of reasons. 44
 ① many ② much ③ various ④ variety
- (13) () other birds, penguins cannot fly. 45
 ① Despite ② Different ③ Unlike ④ Unrelated
- (14) She () a lot of money to the institution. 46
 ① borrowed ② contributed ③ gained ④ spent
- (15) They look so alike that I cannot distinguish one () the other. 47
 ① by ② from ③ to ④ under

英語B

B. 各文の下線部の文中での意味に最も近い語句をそれぞれの①～④の中から選んで番号を所定欄にマークしなさい。

(1) The game was delayed due to the rain. 48

- ① because of ② except for ③ in addition to ④ instead of

(2) He believes that I made a mistake on purpose. 49

- ① accidentally ② deliberately
③ unconsciously ④ unintentionally

(3) They should fully take account of diversity in employment. 50

- ① accept ② consider ③ explain ④ promote

(4) We will bring up this subject at tomorrow's meeting. 51

- ① cause ② finish ③ raise ④ stop

(5) I have seen the whole event, so I can tell that the fact was otherwise.

52

- ① different ② finished ③ imagined ④ obvious

2026（令和8）年度

一般選抜（3教科B方式）試験問題

「歴史総合，日本史探究」

訂正紙があります。最終ページをご確認ください。

歴史総合、日本史探究B

- (I) 近代日本の産業化について、炭鉱のあった端島(通称「軍艦島」。現・長崎市)を題材にして調べたことに関する以下の問に答えなさい。

【端島に関する年表】

- ・1810(文化7)年、端島で石炭発見。
- ・1890(明治23)年、三菱の経営となる。
(a)
- ・1916(大正5)年、日本で最初の鉄筋コンクリート造の高層アパートが完成した。
- ・海上に高層建築が林立する島の外観が、軍艦「土佐」に似ていることから「軍艦島」と呼ばれるようになった。
(b)
- ・1941(昭和16)年、年間の出炭量が最高の41万1100トン記録した。
(c)
- ・1945年の敗戦後、政府は復興を推進するため石炭や鉄鋼の生産に資金や資材を優先的に投下する 生産方式を採用した。
- ・1974(昭和49)年、閉山。無人島になる。
(d)
- ・2015(平成27)年「明治日本の産業革命遺産 製鉄・製鋼、造船、石炭産業」の構成資産の一つとして世界文化遺産に登録された。

※長崎市公式観光サイトで提供されている、世界文化遺産の軍艦島を紹介したリーフレット「軍艦島」等を参考にした。

- 問1 下線部(a)の三菱について述べた文として正しいものを、次の①～④のうちから一つ選びなさい。

- ① 江戸時代の豪商から発展した。
- ② 安田善次郎によって創業された。
- ③ 海運業から発展した。
- ④ 事業を多角化せず、特定分野に集中して経営を続けた。

歴史総合、日本史探究B

問 2 下線部(b)の軍艦「土佐」について調べたところ、ワシントン会議で締結された海軍軍縮条約のために廃艦となったことがわかった。ワシントン会議に関して述べた文 X・Y について、その正誤の組合せとして正しいものを、下の①～④のうちから一つ選びなさい。 2

X 日英同盟の継続が決定した。

Y 中国の主権を尊重する条約が結ばれた。

① X 正 Y 正

② X 正 Y 誤

③ X 誤 Y 正

④ X 誤 Y 誤

問 3 下線部(c)の 1941(昭和 16)年の出来事として誤っているものを、次の①～④のうちから一つ選びなさい。 3

① 国家総動員法が制定された

② 日ソ中立条約が結ばれた。

③ 東条英機内閣が成立した。

④ 日本軍がアメリカ・ハワイの基地を攻撃した。

問 4 空欄 ア に入る生産方式の名称を書きなさい。


記述式解答用紙に記入すること

歴史総合、日本史探究B

問 5 下線部(d)の端島炭坑の閉山について取り上げた新聞記事「今日の問題・軍艦島閉山」(『朝日新聞』1974年1月16日夕刊)に関する下の問に答えなさい。

【新聞記事の一部】

※著作物の使用部分については、著作権の関係により掲載できません。



問 5-1 下線部の石油危機の原因となった戦争について述べた文として正しいものを、次の①～④のうちから一つ選びなさい。 4

- ① アラブ諸国とイスラエルとの戦争
- ② 日本と中国との戦争
- ③ 北朝鮮と韓国との戦争
- ④ アメリカと北ベトナムとの戦争


問 5-2 上の新聞記事から読み取れることについて述べた文として適切なものを、次の①～④のうちから一つ選びなさい。 5

- ① エネルギー革命により、石油だけでなく石炭の需要も高まり、炭鉱の開発が進んだ。
- ② 当時の日本のエネルギー源に占める石炭の比率は、イギリスや西ドイツよりも高かった。
- ③ 石油危機が起こり、石炭の価値が再認識されるようになった。
- ④ 日本でも石炭の増産をいまずぐ始めることが、本当のエネルギー政策である。

歴史総合、日本史探究B

(Ⅱ)

- (A) 1867年のパリ万博を描いた下記の画像を見て、先生と生徒たちが話し合っています。生徒の発言について正しいものを、次の①～⑥のうちから一つ選びなさい。 6



画像には一部改めたところがある。

先生：この絵では当時のフランスの支配者が、万博会場を訪れた外国の王侯貴族を歓迎している様子が描かれています。

広田：フランスの支配者が中央の壇の上に立ち、周囲の人々は彼らに敬意を表しているように見えます。

森山：左側には東洋風の服装をした人もいて、この万博にはヨーロッパだけでなくアジアの国も参加していたことがわかります。

川野：外国から多数の王族がパリに集まっている様子が描かれていることから、大国フランスの威光が感じられます。

歴史総合 日本史探究B

- ① 広田さんのみ正しい。
- ② 森山さんのみ正しい。
- ③ 川野さんのみ正しい。
- ④ 広田さんと森山さんの二人が正しい。
- ⑤ 三人全員が正しい。
- ⑥ 三人とも間違っている。

(B) 1867年のパリ万国博覧会について書かれた以下の文を読み、問に答えなさい。

1865年春、駐日フランス公使レオン・ロッシュは幕府に対し、2年後に開催されるパリ万国博覧会への出品と使節の派遣を要請した。15代将軍となった徳川(ア)は、弟の昭武を使節として派遣することを決意したが、この時付き添いの一人として、農民出身でのちに実業家として活躍した(イ)も同行している。使節団は万博の式典に参加し、会場の展示を見学した後、スイス、イタリア、イギリスなどヨーロッパ各国を訪問した。昭武はその後数年間フランスに留学する予定であったが、日本で大きな事件が起こり、送金も途絶えたため帰国した。

問1 この万博開催当時のフランスの支配者として正しいものを、次の①～④のうちから一つ選びなさい。 7

- ① ナポレオン1世
- ② ルイ18世
- ③ ルイ=フィリップ
- ④ ナポレオン3世

問2 空欄アに当てはまる語(人名)として正しいものを、次の①～④のうちから一つ選びなさい。 8

- ① 家定
- ② 家茂
- ③ 吉宗
- ④ 慶喜

歴史総合, 日本史探究B

問 3 空欄イに当てはまる語(人名)として正しいものを、次の①~④のうちから一つ選びなさい。 9

- ① 勝海舟 ② 渋沢栄一 ③ 大隈重信 ④ 板垣退助

問 4 下線(1)について、1861年に成立したイタリア王国は、ある国の君主を王としたが、その国の名として正しいものを、次の①~④のうちから一つ選びなさい。 10

- ① ヴェネツィア ② トスカーナ
③ ナポリ ④ サルデーニャ(サルディニア)

問 5 下線(2)について、1867年から1869年にかけて日本で起こった「大きな事件」として誤っているものを、次の①~④のうちから一つ選びなさい。

11

- ① 大政奉還 ② 戊辰戦争 ③ 版籍奉還 ④ 西南戦争

(Ⅲ)

日本の古代・中世においては、多くの個性的な為政者がいる。彼らの多くは後代の民衆などからは、どちらかという悪政をおこなった暗君として記憶されることも少なくない。古くは中大兄皇子^(a)によって誅殺された蘇我入鹿などが代表的であり、天武天皇の跡を継いだ持統天皇^(b)や、桓武天皇の跡を継いだ平城天皇^(c)などは、皇位にまつわる悪政を引き起こした人物と評価されることもある。他にも、三条天皇^(d)など、その時々の実力者との関係作りに失敗したことで評判が芳しくない為政者もいる。また、聖武天皇^(e)や桓武天皇^(f)などは、新時代を作ったとされる一方で同時代の社会には大きな負担をかけたとされることもある。

特に白河上皇^(g)、鳥羽上皇^(h)、後白河上皇⁽ⁱ⁾、後鳥羽上皇^(j)という、院政期の上皇たちの評価は常に毀誉褒貶にさらされ、一定しない。また時代の変わり目には、滅びゆく組織を率いた為政者は暗君と見なされることが多く、鎌倉幕府における北条高時^(k)や長崎高資^(l)がその典型である。また新時代を作ったり、確立した為政者が必ずしも評価が高いかという、そうでもなく、例えば後醍醐天皇^(m)や足利義満などは評価が分かれることもある。他にも足利尊氏⁽ⁿ⁾や日野富子^(o)、松永久秀^(p)などは、後代において、その時々⁽ⁿ⁾の思想的な背景をもとに悪い為政者であるかのように語られることもあった。

語注

- ・為政者…政治をおこなう者
- ・毀誉褒貶…ほめたり、悪口を言ったりすること

問 1 下線部(a)~(p)に関する下記の問について、解答を選択肢のうちから一つ選び、記入しなさい。

(a) 中大兄皇子について述べた文として正しいものはどれか。 12

- ① 中大兄皇子の兄弟は即位して神武天皇となった。
- ② 中大兄皇子の兄弟は即位して天武天皇となった。
- ③ 中大兄皇子の姉妹は即位して元正天皇となった。
- ④ 中大兄皇子の姉妹は即位して元明天皇となった。

(b) 持統天皇について述べた文として誤っているものはどれか。 13

- ① 持統天皇は天武天皇の皇后であった。
- ② 飛鳥浄御原令は持統天皇の時代に施行された。
- ③ 庚寅年籍は持統天皇の時代に作成された。
- ④ 持統天皇は近江大津宮に遷都した。

(c) 平城天皇が引き起こした政治的事件を契機に設けられた蔵人頭に関する説明として正しいものはどれか。 14

- ① 蔵人頭は天皇の秘書官長のような役割で、初代として藤原冬嗣が任じられた。
- ② 蔵人頭は天皇の秘書官長のような役割で、初代として藤原広嗣が任じられた。
- ③ 蔵人頭は平安京の警察に当たる役割で、初代として藤原冬嗣が任じられた。
- ④ 蔵人頭は平安京の警察に当たる役割で、初代として藤原広嗣が任じられた。

(d) 三条天皇が生きた時代は、いわゆる国風文化が花開いた時代とされるが、その時代の文化的事象として正しいものはどれか。 15

- ① 和歌が盛んになり『風雅和歌集』が編纂された。
- ② 浄土信仰が流行し、行基によって石清水八幡宮が造られた。
- ③ 束帯だけでなくそれを簡略化した衣冠も状況に応じて正装として通用した。
- ④ 仏師定朝がそれまでの寄木造にかわる一木造の手法を完成させた。

(e) 聖武天皇の治世を述べた文として誤っているものはどれか。 16

- ① 仏教への帰依が厚く、国分寺建立の詔を發布した。
- ② 道鏡という僧侶を重用したことで朝廷政治の分断を招いた。
- ③ 藤原四兄弟が策謀によって長屋王を自殺に追い込んだ。
- ④ 近江紫香楽宮に遷宮した。

歴史総合、日本史探究B

(f) 桓武天皇の治世を述べた文として正しいものはどれか。 17

- ① 蘇我蝦夷に東北地方の制圧を命じた。
- ② 藤原仲麻呂に東北地方の制圧を命じた。
- ③ 伊達氏に東北地方の制圧を命じた。
- ④ 坂上田村麻呂に東北地方の制圧を命じた。

(g) 白河上皇が院政を開始して以降の時代を院政期と称するが、院政期の特徴として正しいものはどれか。 18

- ① 大寺院が僧兵と呼ばれる武力を行使して、政治に大きな影響を与えた。
- ② 院の意向を伝える綸旨と呼ばれる文書が効力を帯びるようになった。
- ③ 荘園制の進展により、公領と呼びうる土地はほとんどなくなった。
- ④ 勢力が衰えた藤原道長の嫡系子孫は地方に活路を見出し、奥州藤原氏となった。

(h) 鳥羽上皇在世中の出来事として正しいものはどれか。 19

- ① 自身の立場に不満を募らせた信西が保元の乱を引き起こした。
- ② 延久の荘園整理令を発令した。
- ③ 平正盛など伊勢平氏を登用した。
- ④ シャクシャインが蜂起した。

(i) 後白河上皇の事績として正しいものはどれか。 20

- ① 日蓮宗を信仰し、法勝寺を建立した。
- ② 黄檗宗を信仰し、法成寺を建立した。
- ③ 今様を愛好し、『梁塵秘抄』を編んだ。
- ④ 田楽を愛好し、『風姿花伝』を編んだ。

歴史総合、日本史探究B

(j) 後鳥羽上皇が引き起こした承久の乱の説明として誤っているものはどれか。 21

- ① 乱の直接の名目は北条義時の追討であった。
- ② 乱を引き起こした張本人として、順徳天皇が廃位された。
- ③ 乱後、京都には六波羅探題が置かれた。
- ④ 後鳥羽上皇は、乱に至る過程で兵力増強のために西面の武士を置いた。

(k) 北条高時が熱中したとされる田楽の説明として誤っているものはどれか。 22

- ① 院政期には猿楽とともに庶民のみならず、貴族のあいだでも流行した。
- ② 古く神事芸能として出発したとされる。
- ③ 室町時代には寺社の保護を受ける専門集団が存在した。
- ④ 戦国時代になると田楽の歌集として『閑吟集』が編まれた。

(l) 長崎高資の説明として正しいものはどれか。 23

- ① 執権北条高時のもとで内管領をつとめた。
- ② 執権北条時頼のもとで内管領をつとめた。
- ③ 執権北条高時のもとで九州探題をつとめた。
- ④ 執権北条時頼のもとで九州探題をつとめた。

(m) 足利義満の時代の外交について正しいものはどれか。 24

- ① 朝鮮と国交を結び、勘合貿易を行った。
- ② 明と国交を結び、勘合貿易を行った。
- ③ 朝鮮と国交を結ぶために、夢窓疎石を派遣した。
- ④ 明と国交を結ぶために、夢窓疎石を派遣した。

歴史総合、日本史探究B

(n) 足利尊氏の親族について正しいものはどれか。 25

- ① 尊氏の子であるともされる直冬は六波羅探題の地位を継承した。
- ② 尊氏の子の義詮は関東管領となった。
- ③ 尊氏の弟の直義は観応の擾乱において尊氏と対立した。
- ④ 尊氏の子の基氏は室町幕府2代将軍となった。

(o) 日野富子は自ら金融業を営んでいたという説もあるが、日野富子が生きた時代の金融業の説明として誤っているものはどれか。 26

- ① 遠隔地取引の活性化により、割符がさかんに利用された。
- ② 銭貨秩序の混乱により撰銭が横行した。
- ③ 土一揆が発生すると、主要な金融業者であった馬借や連雀商人が襲撃された。
- ④ 室町幕府は金融トラブルへの対応として徳政令を発布した。

(p) 松永久秀は茶道を好んだとされるが、戦国時代の茶道や喫茶文化の説明として誤っているものはどれか。 27

- ① 茶道を好んだ豊臣秀吉はしばしば大がかりな茶会を催した。
- ② 茶道を大成した千利休は豊臣秀吉に仕えた。
- ③ 茶道を大成した千利休は豊臣秀吉によって死を余儀なくされた。
- ④ 村田珠光が佗茶を創出するまで、日本では茶を飲用する習慣はなかった。

歴史総合、日本史探究B

- 問 2 波線部に関し、下記の資料は後醍醐天皇の逸話を伝えるとされる史料の一部を意識したものである。この資料の内容について以下の問に答えなさい。

鎌倉幕府を滅ぼし、天下が平定されたので、後醍醐天皇は平安時代の醍醐天皇・村上天皇の時代を模範とする政治にとりかかった。武士に代えて公家を各地の国司などにしたり、公家を長官として雑訴決断所や記録所、侍所などの機関を運営したり、武者所を設置したりした。これまでのいきさつを改めて、「現在では一般的なことも、過去においては新たな事態であった。ゆえに現在わたしが進めている新たな政策も、未来には一般的なことになっているのである」と宣言した。

- (1) ここから読み取れる後醍醐天皇の政治姿勢の特徴について述べよ。

記述式解答用紙に記入すること

- (2) 後醍醐天皇に関する事件である正中の変がおきた年は何年か、西暦で答えよ。記述式解答用紙に記入すること

- (3) 後醍醐天皇の政権と対立した足利尊氏が征夷大將軍になった年は何年か、西暦で答えよ。記述式解答用紙に記入すること

歴史総合、日本史探究B

(Ⅳ) 女性の生き方や暮らしに関する以下の文章を読み、後の問に答えなさい。

(あ) 江戸時代前半、江戸・京都・大坂の三都や長崎には江戸幕府公認の遊廓が作られた。遊女や遊廓は、美人画を多く生み出した喜多川(ア)の絵や、遊里を舞台とした文芸である(イ)などの題材とされ、華やかなイメージで描かれる傾向にある。しかし、遊女となる女性は、貧しい百姓や都市の下層民から身売りされており、身代金などによる多額の借金を背負わされた。また、劣悪な環境に置かれることで病を得て、若くして命を落とすことが多かった。

(い) 江戸時代後期には、多くの(ウ)が各地で開業され、庶民の初等教育を担った。師匠には、男性だけではなく女性もおり、著名な人物として水戸藩領の黒沢止幾^{と き}がいる。止幾の(ウ)は、1872年のフランスの学校制度などにならった(エ)が施行されたときに小学校となった。止幾も教師になり、引き続き地域の子どもたちの教育に携わった。

(う) 民法典論争を経て、明治政府が修正を加えて公布した新民法では、女性の社会的地位が低く置かれていた。また、1925年に成立した普通選挙法においても、女性の参政権は認められていなかった。こうした差別を問題視し、女性の解放を訴える運動は、1911年に平塚らいてうたちが結成した(オ)から始まっている。また、平塚と市川房枝たちが1920年に設立した(カ)協会は、女性の社会的地位の向上などを訴え、参政権の要求も行った。このような運動が展開された結果、女性の政治演説会への参加は可能となったが、女性の参政権は、1945年12月の新選挙法の制定でようやく認められた。

(え) 大正時代は、女性の社会進出が進んだ時代でもあった。彼女たちのなかには、タイピストやバスの車掌などの職業に就いた女性もいた。こうした職業で働く女性や、新中間層の主婦を読者に想定した雑誌も発刊されている。他方で、女性の社会進出が進展する背景には、男性に比較して女性の賃金が低いという実態があった。

問 1 文中の(ア)~(カ)に適切な語句を記入しなさい。

記述式解答用紙に記入すること

問 2 下線部(a)~(g)に関する下記の間について、解答を選択肢のうちから一つ選びなさい。

(a) 江戸時代の京都で起こった出来事として正しいものはどれか。 28

- ① 宝暦事件によって、竹内式部が処罰を受けた。
- ② 懐徳堂では、山片蟠桃などの多くの町人学者を輩出した。
- ③ 大老井伊直弼は、二条城の桜田門外で暗殺された。
- ④ 長州藩は、霜月騒動を引き起こした。

(b) 江戸時代の長崎に関する説明として誤っているものはどれか。 29

- ① 平戸のオランダ商館は、1641年に長崎の出島に移された。
- ② ロシア使節のレザノフが長崎に来航したが、江戸幕府は追い返した。
- ③ オランダ商館の医師シーボルトが、長崎郊外に鳴滝塾を開いた。
- ④ 緒方洪庵は、長崎で適々斎塾を開き、多くの人材を育てた。

(c) 水戸藩に関する説明として、正しいものはどれか。 30

- ① 水戸徳川家は、三卿の一つである。
- ② 徳川光圀は、彰考館を設けて、『大日本史』の編纂を開始した。
- ③ 本居宣長は、藤田幽谷などが説いた尊王攘夷論の影響を受け、『古事記伝』を執筆した。
- ④ 徳川斉昭は、江戸幕府の外交政策を批判する『戊戌夢物語』を書いた。

(d) 民法典論争に関する説明として、正しいものはどれか。 31

- ① 民法典論争で問題となった民法は、ドイツ人顧問モッセが起草した。
- ② 1890年にいったん公布された民法は、家族道徳などの伝統的な倫理を破壊する内容であると批判された。
- ③ 帝国大学教授の穂積八束は、「民法出デ、忠孝亡ブ」という論文を書いて、1890年にいったん公布された民法を支持した。

歴史総合、日本史探究B

(e) 1945年に起こった出来事として、誤っているものはどれか。 32

- ① アメリカは、広島と長崎へ原子爆弾を投下した。
- ② 8月、日本政府はポツダム宣言の受諾を連合国側に通告した。
- ③ 国際連合にかわる組織として国際連盟が発足した。

(f) 新中間層向けに都市郊外に建築された和洋折衷の建物はどれか。 33

- ① 寝殿造 ② 文化住宅 ③ 環状集落 ④ 書院造

(g) 大正時代に女性に向けて発行された雑誌はどれか。 34

- ① 主婦之友 ② 神皇正統記 ③ 曾根崎心中 ④ 学問のすゝめ

問3 波線部(A)~(C)に関する下記の問について、解答を選択肢のなかから一つ選びなさい。

(A) 1925年の普通選挙法成立に至るまでの以下の説明を、古いものから年代順に正しく並びかえたものはどれか。 35

(甲) 第2次山本権兵衛内閣は、普通選挙法導入の方針を固めていたが、関東大震災の対応に追われた後、虎の門事件によって総辞職した。

(乙) 原敬内閣は、選挙権の納税要件を緩和した。

(丙) 清浦奎吾内閣が貴族院を基盤とする内閣であったため、憲政会・立憲政友会・革新倶楽部は超然内閣の出現であると批判し、護憲運動を展開した。

- ① (甲) → (丙) → (乙)
- ② (乙) → (丙) → (甲)
- ③ (丙) → (甲) → (乙)
- ④ (乙) → (甲) → (丙)

歴史総合、日本史探究B

(B) 女性の政治演説会の参加は、女性の政治運動参加を禁じた治安警察法第5条の改正によって可能となった。治安警察法に関する説明の正誤について、正しい組み合わせはどれか。 36

(甲) 治安警察法は、労働者による団結権とストライキを制限することで、労働運動の取り締まりを行うために制定された。

(乙) 治安警察法は、「国体」の変革や、私有財産制度の否認を目的とする結社を組織する者と、そうした結社に加入する者を処罰することを定めている。

- ① (甲)正 (乙)正
- ② (甲)誤 (乙)正
- ③ (甲)正 (乙)誤
- ④ (甲)誤 (乙)誤

(C) 事務員やタイピスト、バスの車掌などを勤めた女性は、何と呼ばれていたか。 37

- ① 職業婦人 ② モダンガール ③ 愛国婦人 ④ 女子挺身隊

2026（令和8）年度一般選抜（3教科B方式）試験問題

訂正 歴史総合，日本史探究

4ページ（Ⅱ）（A）問題文の2行目

（誤）生徒の発言について正しいものを



（正）生徒の発言について述べた文として正しいものを

2026（令和8）年度

一般選抜（3教科B方式）試験問題

「歴史総合，世界史探究」

訂正紙があります。最終ページをご確認ください。

歴史総合、世界史探究B

- (I) 近代日本の産業化について、炭鉱のあった端島(通称「軍艦島」。現・長崎市)を題材にして調べたことに関する以下の問に答えなさい。

【端島に関する年表】

- ・1810(文化7)年、端島で石炭発見。
- ・1890(明治23)年、三菱の経営となる。
(a)
- ・1916(大正5)年、日本で最初の鉄筋コンクリート造の高層アパートが完成した。
- ・海上に高層建築が林立する島の外観が、軍艦「土佐」に似ていることから「軍艦島」と呼ばれるようになった。
(b)
- ・1941(昭和16)年、年間の出炭量が最高の41万1100トンを記録した。
(c)
- ・1945年の敗戦後、政府は復興を推進するため石炭や鉄鋼の生産に資金や資材を優先的に投下する 生産方式を採用した。
- ・1974(昭和49)年、閉山。無人島になる。
(d)
- ・2015(平成27)年「明治日本の産業革命遺産 製鉄・製鋼、造船、石炭産業」の構成資産の一つとして世界文化遺産に登録された。

※長崎市公式観光サイトで提供されている、世界文化遺産の軍艦島を紹介したリーフレット「軍艦島」等を参考にした。

- 問1 下線部(a)の三菱について述べた文として正しいものを、次の①～④のうちから一つ選びなさい。

- ① 江戸時代の豪商から発展した。
- ② 安田善次郎によって創業された。
- ③ 海運業から発展した。
- ④ 事業を多角化せず、特定分野に集中して経営を続けた。

歴史総合、世界史探究B

問 2 下線部(b)の軍艦「土佐」について調べたところ、ワシントン会議で締結された海軍軍縮条約のために廃艦となったことがわかった。ワシントン会議に関して述べた文 X・Y について、その正誤の組合せとして正しいものを、下の①～④のうちから一つ選びなさい。 2

X 日英同盟の継続が決定した。

Y 中国の主権を尊重する条約が結ばれた。

① X 正 Y 正

② X 正 Y 誤

③ X 誤 Y 正

④ X 誤 Y 誤

問 3 下線部(c)の 1941(昭和 16)年の出来事として誤っているものを、次の①～④のうちから一つ選びなさい。 3

① 国家総動員法が制定された

② 日ソ中立条約が結ばれた。

③ 東条英機内閣が成立した。

④ 日本軍がアメリカ・ハワイの基地を攻撃した。

問 4 空欄 ア に入る生産方式の名称を書きなさい。

記述式解答用紙に記入すること

歴史総合、世界史探究B

問 5 下線部(d)の端島炭坑の閉山について取り上げた新聞記事「今日の問題・軍艦島閉山」(『朝日新聞』1974年1月16日夕刊)に関する下の問に答えなさい。

【新聞記事の一部】

※著作物の使用部分については、著作権の関係により掲載できません。

問 5-1 下線部の石油危機の原因となった戦争について述べた文として正しいものを、次の①～④のうちから一つ選びなさい。 4

- ① アラブ諸国とイスラエルとの戦争
- ② 日本と中国との戦争
- ③ 北朝鮮と韓国との戦争
- ④ アメリカと北ベトナムとの戦争


問 5-2 上の新聞記事から読み取れることについて述べた文として適切なものを、次の①～④のうちから一つ選びなさい。 5

- ① エネルギー革命により、石油だけでなく石炭の需要も高まり、炭鉱の開発が進んだ。
- ② 当時の日本のエネルギー源に占める石炭の比率は、イギリスや西ドイツよりも高かった。
- ③ 石油危機が起こり、石炭の価値が再認識されるようになった。
- ④ 日本でも石炭の増産をいまず始めることが、本当のエネルギー政策である。

歴史総合，世界史探究B

(Ⅱ)

- (A) 1867年のパリ万博を描いた下記の画像を見て、先生と生徒たちが話し合っています。生徒の発言について正しいものを、次の①～⑥のうちから一つ選びなさい。 6



画像には一部改めたところがある。

- 先生：この絵では当時のフランスの支配者が、万博会場を訪れた外国の王侯貴族を歓迎している様子が描かれています。
- 広田：フランスの支配者が中央の壇の上に立ち、周囲の人々は彼らに敬意を表しているように見えます。
- 森山：左側には東洋風の服装をした人もいて、この万博にはヨーロッパだけでなくアジアの国も参加していたことがわかります。
- 川野：外国から多数の王族がパリに集まっている様子が描かれていることから、大国フランスの威光が感じられます。

歴史総合、世界史探究B

- ① 広田さんのみ正しい。
- ② 森山さんのみ正しい。
- ③ 川野さんのみ正しい。
- ④ 広田さんと森山さんの二人が正しい。
- ⑤ 三人全員が正しい。
- ⑥ 三人とも間違っている。

(B) 1867年のパリ万国博覧会について書かれた以下の文を読み、問に答えなさい。

1865年春、駐日フランス公使レオン・ロッシュは幕府に対し、2年後に開催されるパリ万国博覧会への出品と使節の派遣を要請した。15代将軍となった徳川(ア)は、弟の昭武を使節として派遣することを決意したが、この時付き添いの一人として、農民出身でのちに実業家として活躍した(イ)も同行している。使節団は万博の式典に参加し、会場の展示を見学した後、スイス、イタリア、イギリスなどヨーロッパ各国を訪問した。昭武はその後数年間フランスに留学する予定であったが、日本で大きな事件が起こり、送金も途絶えたため帰国した。

問1 この万博開催当時のフランスの支配者として正しいものを、次の①～④のうちから一つ選びなさい。 7

- ① ナポレオン1世
- ② ルイ18世
- ③ ルイ=フィリップ
- ④ ナポレオン3世


問2 空欄アに当てはまる語(人名)として正しいものを、次の①～④のうちから一つ選びなさい。 8

- ① 家定
- ② 家茂
- ③ 吉宗
- ④ 慶喜


歴史総合、世界史探究B

(Ⅲ) 教会建築の写真A・B・Cに関連した以下の問に答えなさい。

A
※著作物の使用部分については、著作権の関係により掲載できません。




B



出典：『詳説 世界史研究』山川出版社、
2017年、166ページ

C
※著作物の使用部分については、著作権の関係により掲載できません。



出典：『詳説 世界史研究』山川出版
社、2017年、191ページ

歴史総合, 世界史探究B

問 1 それぞれの建築様式の名称として正しいものを、次の①～⑤のうちから一つ選びなさい。 **12**

- ① A ゴシック様式 B ビザンツ様式 C ロマネスク様式
② A ロマネスク様式 B ゴシック様式 C ビザンツ様式
③ A ゴシック様式 B ロマネスク様式 C ビザンツ様式
④ A ビザンツ様式 B ゴシック様式 C ロマネスク様式
⑤ A ビザンツ様式 B ロマネスク様式 C ゴシック様式

問 2 それぞれの様式の教会内部の最も特徴的な装飾の組み合わせとして正しいものを、次の①～⑤のうちから一つ選びなさい。 **13**

- ① A 壁画 B モザイク C ステンドグラス
② A ステンドグラス B モザイク C 壁画
③ A モザイク B 壁画 C ステンドグラス
④ A ステンドグラス B 壁画 C モザイク
⑤ A 壁画 B モザイク C ステンドグラス

問 3 教会Aについて。この教会建築は、イスラーム教のモスクに転用されて今日に至っている。その際に建物にはいくつかの改変が加えられたが、写真から見て取ることができる最もはっきりした改変は何かを答えなさい。

記述式解答用紙に記入すること

問 4 教会Bについて。この様式の教会が多く建設されたのは10世紀から12世紀初めにかけてである。この時代に活躍したオットー1世について以下の問に答えなさい。

問 4-1 オットー1世は955年に(ア)人の軍勢をレヒフェルトで撃退した。(ア)にあてはまる適当な語句として正しいものを、次の①～③のうちから一つ選びなさい。 **14**

- ① モンゴル ② マジャール ③ トルコ

歴史総合、世界史探究B

問 4-2 そののちオットー1世は962年に、神聖ローマ帝国と呼ばれることになる国家の君主として戴冠された。戴冠した人物の職名を答えなさい。

記述式解答用紙に記入すること

問 5 教会Cについて。この様式の教会が多く建設されたのは12世紀後半から15世紀にかけての都市においてである。この時代の学問は都市に設立された大学を舞台に発展をとげた。以下の問に答えなさい。

問 5-1 この時代の大学の発達について述べた①～④の文のうちから正しいものを二つ選びなさい。 15 16

- ① パリ大学は神学、サレルノ大学は医学の研究の中心地となった。
- ② 大学では、古代ギリシアの詩歌・演劇の研究も盛んに行われた。
- ③ カール大帝(シャルルマーニュ)による学問奨励政策によりパリ大学が誕生した。
- ④ 大学では、ラテン語に翻訳されたアリストテレスの著作が研究された。

問 5-2 中世とその前後の時期に活躍した学者たちを年代順に正しく並べたものを、次の①～④のうちか一つ選びなさい。 17


- ① アベラール ロジャー＝ベーコン デカルト アウグスティヌス アルクイン
- ② アルクイン アベラール デカルト アウグスティヌス ロジャー＝ベーコン
- ③ アウグスティヌス アルクイン アベラール ロジャー＝ベーコン デカルト
- ④ アウグスティヌス デカルト アルクイン ロジャー＝ベーコン アベラール

歴史総合, 世界史探究B

(Ⅳ) 資料1と資料2を読んで、ムガル帝国に関する以下の問に答えなさい。

資料1


※著作物の使用部分については、著作権の関係により掲載できません。



出典：間野英二『パープル・ナーマの研究 Ⅲ』松香堂、1998年、430ページ

資料2

※著作物の使用部分については、著作権の関係により掲載できません。



出典：ベルニエ著、関美奈子訳『ムガル帝国誌(一)』岩波書店、2001年、23ページ

歴史総合，世界史探究B

A 16世紀前半、ティムールの子孫であるバーブルはムガル帝国を建てた。資料1は、バーブルの回想録にある、ロディー朝を破った戦いについての記述である。資料1を読み、以下の問に答えなさい。

問1 バーブルは回想録をトルコ系の言語で執筆した。この言語を次の①～④のうちから一つ選びなさい。 19

- ① チャガタイ語
- ② アラビア語
- ③ ラテン語
- ④ ロシア語

問2 下線部で示したような火器の使用が勝敗を分けたとされるこの戦いを次の①～④のうちから一つ選びなさい。 20

- ① イツソスの戦い
- ② バーニーパットの戦い
- ③ ポエニ戦争
- ④ アヘン戦争

B 資料2はシャー・ジャハーンからアウラングゼーブの時代にムガル帝国を訪れたフランス人旅行家ベルニエの記録の一部である。資料2を読み、以下の問に答えなさい。

問3 ムガル帝国の文化の説明として誤っているものを、次の①～④のうちから一つ選びなさい。 21

- ① ペルシアの写本絵画(細密画)の影響を受けてムガル絵画が発展した。
- ② 公用語としてペルシア語が使用された。
- ③ ソグド文字が発明された。
- ④ ウルドゥー語の文学作品が書かれた。

歴史総合, 世界史探究B

問 4 下線部(1)のシャー・ジャハーンが妃のために建造させた霊廟を答えなさい。記述式解答用紙に記入すること

問 5 下線部(1)のシャー・ジャハーンを継いだアウラングゼーブの治世の出来事として適切なものを、次の①～④のうちから一つ選びなさい。 22

- ① ヴァスコ＝ダ＝ガマがインドに到達した。
- ② モンゴル帝国が崩壊して複数の地方政権が誕生した。
- ③ ポルトガルがゴアを占領した。
- ④ 西北インドでシク教徒の反乱が起きた。

問 6 下線部(2)のアクバルがヒन्दゥー教徒に対する融和策として実施した、税制上の政策を答えなさい。記述式解答用紙に記入すること

問 7 下線部(3)のティムールの説明として適切なものを、次の①～④のうちから一つ選びなさい。 23

- ① タラス河畔の戦いで唐の軍隊を破った。
- ② ラシード＝アッディーンを宰相に任命した。
- ③ アッバース朝を滅ぼした。
- ④ アンカラの戦いでオスマン帝国を破った。

問 8 アウラングゼーブ没後のムガル帝国の説明として誤っているものを、次の①～④のうちから一つ選びなさい。 24

- ① ベンガルをはじめとして各地に独立政権が誕生した。
- ② イギリス東インド会社による植民地化が進んだ。
- ③ マレー半島にイギリスが築いた海峡植民地に併合された。
- ④ インド大反乱ののち滅亡した。

歴史総合、世界史探究B

(V) ラテンアメリカ史に関する以下の問に答えなさい。

問 1 16世紀に滅ぼされたアステカ王国とインカ帝国について、国が滅亡した年と、その国に存在した遺跡あるいは都市の名称を記した選択肢のうち、正しいものを、次の①～④のうちから一つ選びなさい。 25

- ① アステカ王国、1521年、コルテス
- ② インカ帝国、1521年、テノチティトラン
- ③ アステカ王国、1533年、クスコ
- ④ インカ帝国、1533年、マチュピチュ

問 2 19世紀初期におけるラテンアメリカ各地の独立について、以下の問に答えなさい。

問 2-1 各国の独立は、主にどういった人々によって達成されたか。次の①～④のうちから一つ選びなさい。 26

- ① クリオーリョ
- ② メスティソ(メスティーツ)
- ③ ムラート
- ④ インディオ

問 2-2 問 2-1 で答えた人々の説明として正しいものを、次の①～④のうちから一つ選びなさい。 27

- ① 先住民
- ② 植民地で生まれた白人
- ③ 白人と黒人の混血
- ④ 白人と先住民との混血

問 3 19世紀末のラテンアメリカ諸国では、輸出を目的とした特定の農産物や原料の生産に偏る傾向がみられた。

問 3-1 そうした傾向を指す言葉をカタカナで書きなさい。

記述式解答用紙に記入すること

歴史総合、世界史探究B

問 3-2 そうした農産物や原料の具体例として正しいものを、次の①～④のうちから二つ選びなさい。 28 29

- ① コーヒー豆
- ② 生 糸
- ③ チョコレート
- ④ 硝 石

問 4 以下の文章は、アメリカ合衆国大統領が送付した書簡(1962年10月22日)の一部である。これを読んで、以下の問に答えなさい。

キューバで特定の事態が生じた場合には、アメリカ合衆国は自国とその同盟国の安全を守るために必要なことは何であれ、実行しなければならないと公言しました。それは、キューバに関して、貴国政府が評価を誤らないようにするためです。

加えて、議会はこのように宣言された政策を支持する旨の決議を採択しました。それにもかかわらず、キューバでは、長距離ミサイル基地やその他の攻撃兵器システムの整備が急速に進められています。私としては、合衆国が西半球の安全保障に対する脅威を取り除く決意を固めている、と申し上げなければなりません。それと同時に、我々が講じている措置は[・・・]安全保障⁽¹⁾に対する脅威を除去するための必要最小限であることを指摘しておきます。しかしながら、このように対応が最低限であるという事実は、貴国の不適切な判断の根拠にされるべきではありません。

典拠：Charles S. Sampson (ed.), *Foreign Relations of the United States, 1961-1963, Volume VI, Kennedy-Khrushchev Exchanges*, 1996(電子版), p. 205 から一部を訳出した。

問 4-1 この書簡は、どの国に送られたものか。国名を書きなさい。

記述式解答用紙に記入すること

歴史総合, 世界史探究B

問 4-2 下線部(1)は、具体的にどういったことを指しているのか。もっとも適切な選択肢を次の①～④のうちから一つ選びなさい。 30

- ① キューバにおける社会主義革命
- ② キューバ政府の転覆
- ③ キューバにミサイル基地を置くこと
- ④ キューバの海上封鎖

問 4-3 キューバ危機の反省から核開発競争に一定の歯止めをかける目的で、1963年に締結された条約とは何か。正しいものを、次の①～④のうちから一つ選びなさい。 31

- ① 部分的核実験禁止条約(PTBT)
- ② 核拡散防止条約/核兵器不拡散条約(NPT)
- ③ 包括的核実験禁止条約(CTBT)
- ④ 核兵器禁止条約(TPNW)

訂正 歴史総合，世界史探究

訂正 1 4ページ（Ⅱ）（A）問題文の2行目

（誤）生徒の発言について正しいものを



（正）生徒の発言について述べた文として正しいものを

訂正 2 8ページ（Ⅲ）問2

1) 問題文2行目の訂正：

（誤）次の①～⑤のうちから



（正）次の①～④のうちから

2) 項目の削除： 選択肢⑤を削除

訂正 3 9ページ（Ⅲ）問5

（誤）都市においでである



（正）都市においてである